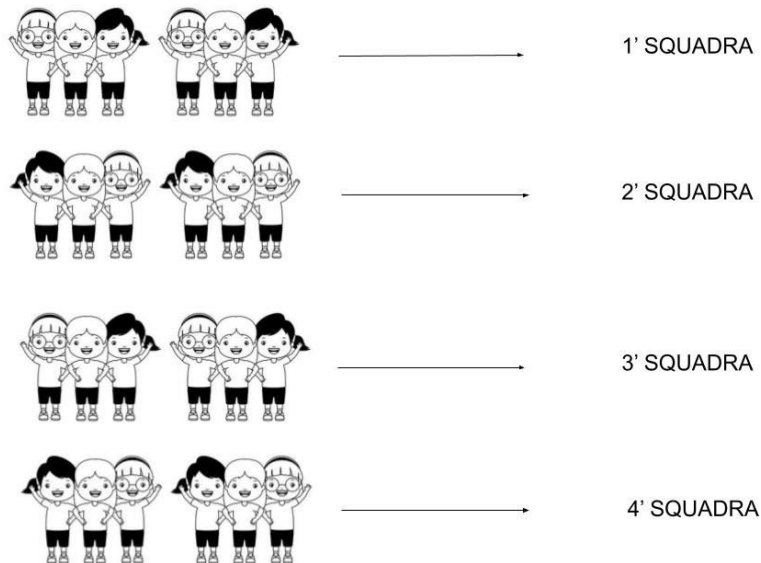


La Divisione

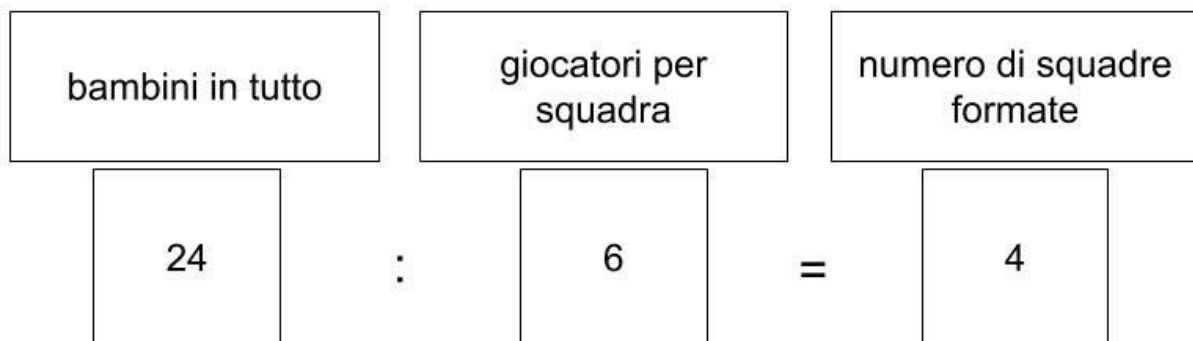
Divido per raggruppare.

Per il torneo di pallavolo i 24 bambini partecipanti saranno divisi in squadre da 6 giocatori ciascuna.



Quante squadre sei riuscito a formare? Ho formato _____ squadre.

Anche questa volta ho eseguito una **divisione**.




Problema

Alla festa di compleanno di Martina ci sono 16 invitati, per il gioco del fazzoletto Martina ha deciso di formare squadre da 8 giocatori. Quante squadre formerà Martina?

Disegna e scrivi quanti giocatori avrà ogni squadra (puoi ricopiare la scheda sul quaderno)

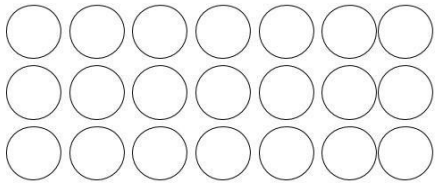
Leggi i seguenti problemi e opera secondo le indicazioni date.

Con 20 mele quante confezioni da 4 riesci a preparare?




Scrivi l'operazione: _____ : _____ =

Le perline sono 21. Quante collane da 7 perline puoi costruire?



Scrivi l'operazione: _____ : _____ =

Le margherite sono 18. Quanti mazzi da 6 margherite puoi preparare?



Scrivi l'operazione: _____ : _____ =